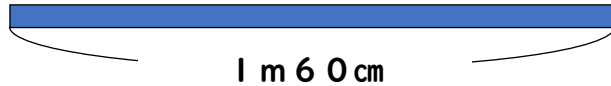
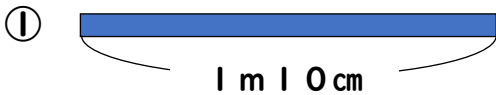
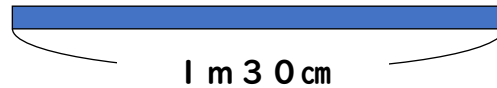
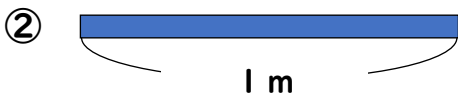


□ 1

テープは あわせて 何m何cmですか。



() m () cm



() m () cm

□ 2

長さが 3 m 60 cmと 2 mの 2本の ぼうが あります。

① あわせて 何m何cm ですか。

しき

こたえ

② ちがいは 何m何cmですか。

しき

こたえ

